

ՄԻԱՄՆԱԿԱՆ ՔՆՆՈՒԹՅՈՒՆ

2020

ԱՇԽԱՐՀԱԳՐՈՒԹՅՈՒՆ

ԹԵՍՏ 2

Խմբի համարը

Նստարանի համարը

Հարգելի՛ դիմորդ

Խորհուրդ ենք տալիս առաջադրանքները կատարել ըստ հերթականության: Ուշադիր կարդացե՛ք յուրաքանչյուր առաջադրանք և պատասխանների առաջարկվող տարբերակները: Եթե Ձեզ չի հաջողվում որևէ առաջադրանքի անմիջապես պատասխանել, ժամանակը խնայելու նպատակով կարող եք այն բաց թողնել և դրան անդրադառնալ ավելի ուշ:

Ձեր առջև դրված թեստ-գրքույկի էջերի դատարկ մասերը ազատորեն կարող եք օգտագործել սևագրության համար: **Թեստ-գրքույկը չի ստուգվում: Ստուգվում է միայն պատասխանների ձևաթուղթը:**

Առաջադրանքները կատարելուց հետո չմոռանաք պատասխանները ուշադիր և խնամքով նշել պատասխանների ձևաթղթում: Պատասխանների ձևաթղթի ճիշտ լրացումից է կախված Ձեր քննական միավորը:

Մաղթում ենք հաջողություն:

1 Հասարակական աշխարհագրության ճյուղերից է.

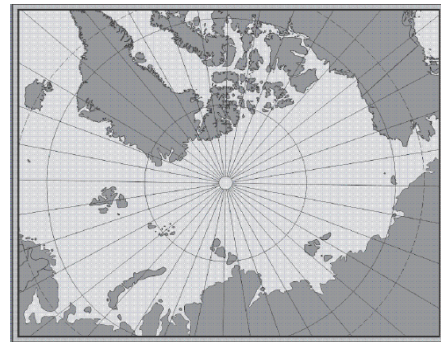
- 1) ջրաբանությունը
- 2) հնեաշխարհագրությունը
- 3) կլիմայագիտությունը
- 4) երկրագրությունը

2 Երևանի հեռավորությունը հարավային բևեռային շրջագծից կլինի.

- 1) 116,5°
- 2) 86,5°
- 3) 96,5°
- 4) 106,5°

3 Նկար 1.- ում տրված քարտեզը կազմելու համար ի՞նչ պրոյեկցիա է կիրառվել:

- 1) կոնային
- 2) հասարակածային
- 3) գլանային
- 4) ազիմուտային



նկար 1.

4 Ո՞ր պնդումն է սխալ:

- 1) Մարտի 21-ին առավելագույն ջերմություն ստանում են հասարակածային լայնությունները
- 2) Երկրագնդի առանցքի թեքությունն իր պտտման ուղեծրի հարթության նկատմամբ կազմում է 66,5°:
- 3) Արեգակի շուրջը երկրագնդի պտտման երկարությունը 940 մլն կմ է:
- 4) Հունիսի 22-ին բևեռային ցերեկ լինում է հարավային բևեռային շրջագծի վրա:

5 Ո՞ր պնդումն է ճիշտ.

- 1) Հարաբերական բարձրությունը Երկրի մակերևույթի որևէ կետի բարձրությունն է՝ հաշված ծովի մակարդակից:
- 2) Աղավաղումներն աշխարհագրական քարտեզում ավելի մեծ են, քան հատակագծում:
- 3) Անվանական մասշտաբը պատկերվում է կոտորակի տեսքով:
- 4) Քարտեզում հավասար մթնոլորտային ճնշում ունեցող կետերը միացնող գիծը կոչվում է իզոթերմ:

6 Քարտեզում երկու կետերի հեռավորությունը 6 սմ է, իսկ իրականում՝ 48 կմ:
Այդ քարտեզի մասշտաբը կլինի.

- 1) 1: 80 000 000
- 2) 1: 80 000
- 3) 1: 800 000
- 4) 1: 8 000 000

7 Ո՞ր դարաշրջանում է երկրակեղևը կրել ալպյան ծալքավորության ազդեցությունը:

- 1) Պալեոզոյան
- 2) Մեզոզոյան
- 3) Կայնոզոյան
- 4) Պրոտերոզոյան

8 Ո՞ր պնդումն է ճիշտ.

- 1) Ծալքաբեկորավոր լեռներում ծալքերը և բեկորներն առաջանում են տեկտոնական շարժումների բացակայության պատճառով:
- 2) Երկրակեղևի օվկիանոսային տիպում բազալտային շերտը բացակայում է:
- 3) Ուժեղ երկրաշարժի ժամանակ երկրակեղևի ամբողջ տեղամասերի թեկուզ մի քանի մետրով կտրուկ իջեցումը կամ բարձրացումը բացառվում է:
- 4) Հարթավայրեր առաջանում են ջրիկ լավայի արտավիժումների հետևանքով:

9 Մթնոլորտում ո՞ր բարձրություններում է տարածվում օզոնի շերտը.

- 1) 40 – 45 կմ
- 2) 25 - 30 կմ
- 3) 30 – 35 կմ
- 4) 35 – 40 կմ

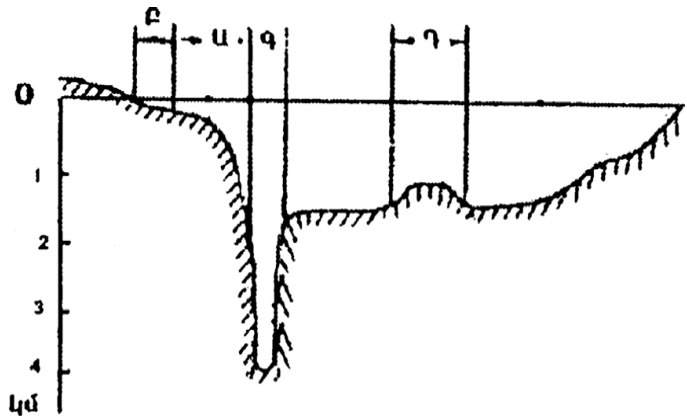
10 Ո՞ր պնդումն է սխալ.

- 1) Քամիներն առաջացնում են ցունամիներ:
- 2) Քամու միջոցով նավարկում են առազաստանավերը:
- 3) Քամու միջոցով արտադրվում է էլեկտրաէներգիա:
- 4) Քամիներն առաջացնում են ավազաբլուրներ:

11

Համաշխարհային օվկիանոսի հատակի ռելիեֆը պատկերող նկարում n° թ ստառով է նշված մայրցամաքային ծանծաղուտը.

- 1) Դ
- 2) Ա
- 3) Բ
- 4) Գ



12

Ո՞ր պնդումն է ճիշտ.

- 1) Գետի ջրի մակարդակի տատանումը կոչվում է գետի հոսք:
- 2) Ինչքան մեծ լինեն գետի անկումն ու թեքությունը, այնքան մեծ կլինի նրա էներգետիկ կարողությունը:
- 3) Կասպից և Արալյան լճերն ունեն տեկտոնական ծագում:
- 4) Գրենլանդիայում և Անտարկտիդայում լայն տարածում ունեն լեռնահովտային սառցադաշտերը:

13

Բնութագրումով որոշել բնական զոնան.

Այս բնական զոնան ունի լավ արտահայտված երկու սեզոն՝ խոնավ, տաք ամառներ, տաք և չոր ձմեռներ: Լայն տարածում ունի Աֆրիկայում և Հարավային Ամերիկայում: Ո՞ր բնական զոնան է.

- 1) անապատ
- 2) տափաստան
- 3) սավաննա
- 4) տունդրա

14

Բարեխառն գոտու փշատերև անտառները հիմնականում n° թ հողերի վրա են տարածվում.

- 1) պոդզոլային
- 2) կարմրագորշ
- 3) դարչնագույն
- 4) կարմրադեղին

15

Ո՞ր պնդումն է սխալ.

- 1) Անտարկտիկայում չկան գործող հրաբուխներ, և չեն լինում երկրաշարժեր:
- 2) Անտարկտիդայի հիմքում ընկած է Անտարկտիկական հնագույն պլատֆորմը:
- 3) Անտարկտիդայի արևմուտքում ձգվում է Անտարկտիկական Անդերը:
- 4) Անտարկտիդայի հզոր սառցադաշտերի տակ կան լեռնաշղթաներ, սարահարթեր, հսկայական գոգավորություններ և նույնիսկ իջվածքներ:

16

Ո՞ր գույզի կղզիներն են նույն ծովում.

- 1) Սարդինիա և Կորսիկա
- 2) Հոնայու և Կալիմանտան
- 3) Սուլավեսի և Ճամայկա
- 4) Հոկայդո և Թայվան

17

Հարավային Ամերիկայի ամենաբարձր և ամենացածր կետերի բարձրությունների տարբերությունը կազմում է.

- 1) 7100 մ
- 2) 6800 մ
- 3) 6900 մ
- 4) 7000 մ

18

Ընտրել Հարավային Ամերիկայի բնական զոնաների տեղական անվանումների և բնական զոնայի կամ այն ընդգրկող տարածքի համապատասխանությունների ճիշտ շարքը.

- | | |
|------------|---|
| ա. պարամոս | 1. խոնավ հասարակածային անտառներ |
| բ. պամպա | 2. բարձրալեռնային մարգագետինները Անդերի լեռնաշղթայում |
| գ. սելվաս | 3. սավաննաները՝ Բրազիլական սարահարթում |
| դ. կամպոս | 4. մերձարևադարձային տափաստանները Լա-Պլատայի դաշտավայրի հարավում |

- 1) ա-2, բ-1, գ-4, դ-3
- 2) ա-2, բ-4, գ-1, դ-3
- 3) ա-3, բ-4, գ-1, դ-2
- 4) ա-3, բ-1, գ-4, դ-2

19

Ո՞ր պնդումն է սխալ.

- 1) Հյուսիսային Ամերիկայում չկան անապատներ և կիսաանապատներ:
- 2) Կենտրոնական Ամերիկայում, Կարիբյան ծովի կղզիներում տարածվում են խոնավ արևադարձային անտառներ և սավաննաներ:
- 3) Հյուսիսային Ամերիկայի տունդրայի զոնայում տիրապետող են մամուռներն ու քարաքոսները:
- 4) Կանադական կղզեխմբում ու Քրենլանդիայում առավելապես տարածվում է սառցային զոնան:

20 Ատլանտյան օվկիանոս թափվող գետ է.

- 1) Կոլումբիան
- 2) Մակենզին
- 3) Միսիսիպին
- 4) Կոլորադոն

21 Ո՞ր շարքում *սխալ* կա.

- 1) Դրակոնյան, Կապի, Ատլասի—լեռներ
- 2) Նամիր, Կալահարի, Սահարա—անապատներ
- 3) Տանգանիկա, Նյասա, Շարի—լճեր
- 4) Զամբեզի, Նեղոս, Օրանժ—գետեր

22 Աֆրիկայի մերձարևադարձային մշտականաչ անտառների ու թփուտների բնական զոնայի վերաբերյալ ո՞ր պնդումն է ճիշտ.

- 1) Տարածված կենդանատեսակներն են էմու ջայլամը, դինգո շունը և բադակտուցը:
- 2) Մթնոլորտային տեղումներն առավելապես թափվում են ձմռանը:
- 3) Հողային ծածկում գերակշռում են շագանակագույն և մոխրագորշ հողերը:
- 4) Տարածված բուսատեսակներն են բաոբաբը, ֆիկուսը, կաուչուկատու հնեան:

23 Եվրասիայի բարեխառն կլիմայական գոտու վերաբերյալ ո՞ր պնդումն է ճիշտ.

- 1) Ցամաքային կլիմայի մարզում կլիմայի ցամաքայնությունն արևմուտքից արևելք նվազում է:
- 2) Ամենափոքր տարածքը զբաղեցնում է բարեխառն ցամաքային կլիմայի մարզը:
- 3) Ամենամեծ տարածքը զբաղեցնում է բարեխառն մուսսոնային կլիմայի մարզը:
- 4) Ծովային կլիմայի մարզը բնութագրվում է մեղմ ձմեռով, զով ամառով:

24 Ո՞ր երկիրն է եղել ԽՍՀՄ-ի կազմում.

- 1) Լեհաստանը
- 2) Մոնղոլիան
- 3) Էստոնիան
- 4) Վիետնամը

25 Ո՞ր պնդումն է ճիշտ:

- 1) Մեգալոպոլիսները խմբային տարաբնակեցման պարզ ձևեր են:
- 2) Ավստրալիան և Ռուսաստանը խտաբնակ երկրներ են:
- 3) Քրիստոնեությունը և բուդդայականությունը ազգային կրոններ են:
- 4) Զարգացող երկրներում բարձր են ուրբանիզացման աճի տեմպերը:

26

Երկրի բնակչության թիվը 8 մլն մարդ է, բնակչության միջին խտությունը՝ 160 մարդ/կմ²: Երկրի տարածքը կլինի.

- 1) 80 հազ. կմ²
- 2) 20 հազ. կմ²
- 3) 40 հազ. կմ²
- 4) 50 հազ. կմ²

27

Ո՞ր պնդումն է սխալ.

- 1) Վուշը ցրտադիմացկուն և խոնավասեր բույս է, մշակվում է բարեխառն գոտու հյուսիսային լայնություններում:
- 2) Թեյի հայրենիքը Չինաստանն է:
- 3) Բրինձը հացահատիկների շարքում ամենաշերմասերն ու խոնավասերն է:
- 4) Եգիպտացորենի հայրենիքը Եգիպտոսն է:

28

Արտադրանքի ծավալով համաշխարհային արդյունաբերության առաջատար ճյուղն է.

- 1) թեթև արդյունաբերությունը
- 2) մեքենաշինությունը
- 3) էլեկտրաէներգետիկան
- 4) մետաղաձուլությունը

29

Հարավարևմտյան Ասիայի վերաբերյալ ո՞ր պնդումն է սխալ.

- 1) Իրանը և Իրաքը փյունիկյան արմավի մշակությամբ աշխարհի առաջատար երկրներն են:
- 2) Եմենում բացակայում է երկաթուղին
- 3) Տարածաշրջանի տնտեսապես ամենազարգացած պետությունը Իսրայելն է:
- 4) Թուրքիայի տնտեսության առաջատար ճյուղը նավթարդյունահանումն է:

30

Բնութագրումով որոշել երկիրը.

Այս ասիական պետությունն ունի բազմազգ բնակչություն: Բնակչության մեծ մասն ուղղափառ քրիստոնյաներ են: Արդյունաբերության մեջ առաջնային տեղը պատկանում է գյուղատնտեսական հումք մշակող ճյուղերին: Աճեցվող կարևորագույն մշակաբույսերն են թեյը և ցիտրուսային պտուղները: Մակերևույթը լեռնային է, հարուստ է ռեկրեացիոն ռեսուրսներով:

- 1) Լիբանան
- 2) Ադրբեջան
- 3) Հորդանան
- 4) Վրաստան

Ո՞ր պնդումն է սխալ.

- 1) Քիմիական արդյունաբերությունը գերազանցապես տեղաբաշխված է զարգացող երկրներում:
- 2) Քիմիական արդյունաբերության տեղաբաշխման վրա ազդում է ջրատարության գործոնը:
- 3) Քիմիական արդյունաբերության տեղաբաշխման գործում մեծ է կոմբինացման (համակցման) դերը:
- 4) Քիմիական արդյունաբերության տեղաբաշխման վրա մեծ ազդեցություն ունի էկոլոգիական գործոնը:



քարտեզ 1

Ո՞ր պետությունն է քարտեզ 1-ում նշված Դ տառով.

- 1) Մոլդովա
- 2) Բուլղարիա
- 3) Ռումինիա
- 4) Հունգարիա

33

Ո՞ր մայրաքաղաքն է քարտեզ 1-ում նշված Ը տառով.

- 1) Ռիգա
- 2) Օսլո
- 3) Հելսինկի
- 4) Ստոկհոլմ

34

Կենտրոնական Ասիա տարածաշրջանի վերաբերյալ ո՞ր պնդումն է ճիշտ.

- 1) Թեթև արդյունաբերությունը զարգանում է ներկրվող հումքի հաշվին:
- 2) Տրանսպորտային ցանցը խիտ է:
- 3) Բնակչության միջին խտությունը բարձր է:
- 4) Գյուղատնտեսության առաջատար ճյուղը բուսաբուծությունն է:

35

Մշակաբույսերից որի՞ մշակությամբ է Չինաստանն աշխարհում գրավում առաջին տեղը.

- 1) արևածաղկի
- 2) կակաոյի
- 3) բամբակենու
- 4) սուրճի

36

Աֆրիկայի ո՞ր երկրները ելք չունեն դեպի ծով.

- 1) Մոզամբիկ և Տանզանիա
- 2) Նիգեր և Ռուանդա
- 3) Թունիս և Մարոկկո
- 4) Գանա և Մավրիտանիա

37

Ավստրալիայի վերաբերյալ ո՞ր պնդումն է ճիշտ.

- 1) Ստորերկրյա արտեզյան ջրերի պաշարներով աշխարհի առավել հարուստ երկրներից է:
- 2) Աշխարհի ամենախիտ բնակեցված մայրցամաքներից է:
- 3) Արդյունաբերության առաջատար ճյուղը թեթև արդյունաբերությունն է:
- 4) Բնակչության թվով ամենախոշոր քաղաքը Կանբերան է:

38

Ամերիկայի Միացյալ Նահանգներին (ԱՄՆ) են պատկանում.

- 1) Կանարյան կղզիները
- 2) Ֆոլկլենդյան կղզիները
- 3) Սեյշելյան կղզիները
- 4) Հավայան կղզիները

39

Լատինական Ամերիկայի վերաբերյալ ո՞ր պնդումն է սխալ.

- 1) Խոշորագույն նավահանգիստներից են Բուենոս Այրեսն ու Ռիո դե ժանեյրոն:
- 2) Նավթի արդյունահանման ծավալով առաջատար երկիր է Չիլին:
- 3) Պարանա գետի վրա է կառուցված Բոայպու խոշորագույն ջրէկը:
- 4) Շաքարի արտադրության ծավալով Բրազիլիան աշխարհում առաջինն է:

40

Ռուսաստանի Դաշնության վերաբերյալ ո՞ր պնդումն է ճիշտ.

- 1) Ոսկու արդյունաբերությունը հիմնականում կենտրոնացած է Կուլա թերակղզում:
- 2) Բնական գազի պաշարներով աշխարհում գրավում է առաջին տեղը:
- 3) Էլեկտրաէներգիայի մեծ մասն արտադրվում է ատոմային էլեկտրակայաններում:
- 4) Նավթի հիմնական պաշարները տեղաբաշխված են Կուզբասի, Կանսկ-Աչինսկի ավազաններում:

41

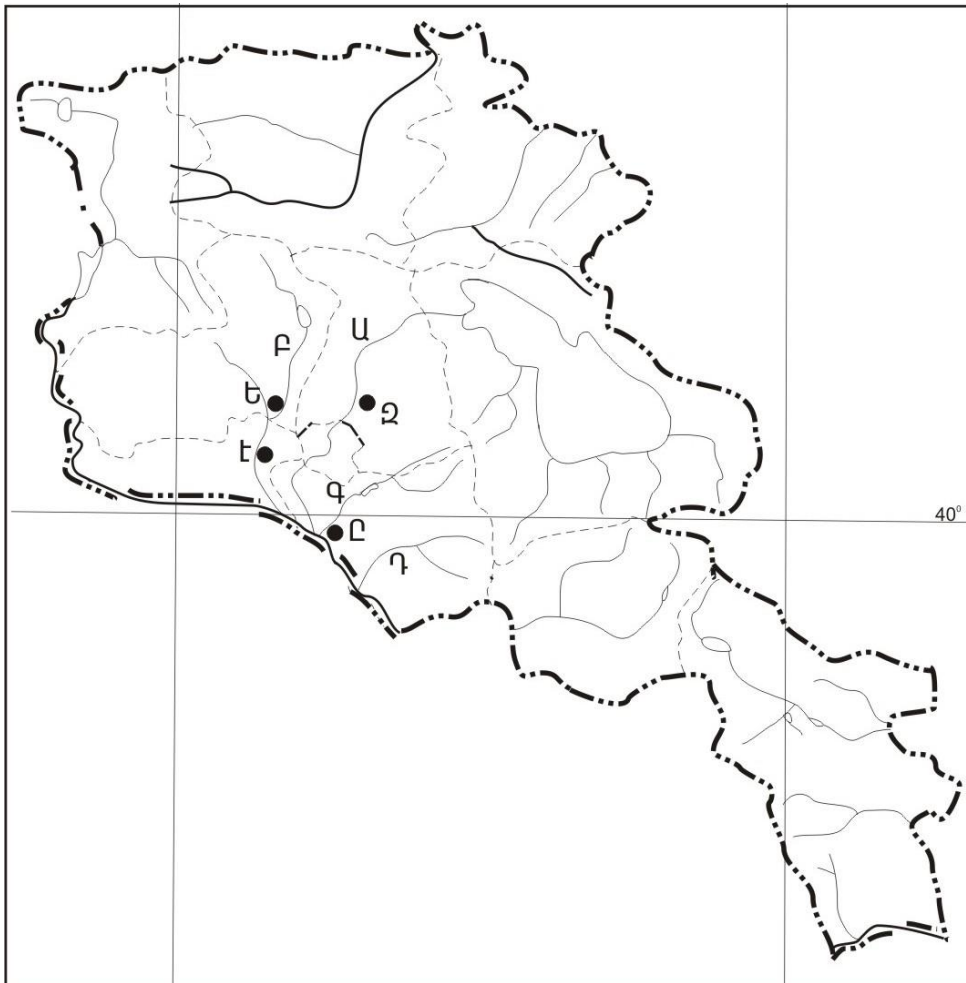
Ի՞նչ ծագման լճեր չկան Հայկական լեռնաշխարհում.

- 1) փլվածքային
- 2) սառցադաշտային
- 3) մնացորդային
- 4) տեկտոնահրաբխային

42

ԼՂՀ (Արցախի Հանրապետություն) ո՞ր վարչական շրջանը և կենտրոնը համանուն չեն.

- 1) Հադրութի
- 2) Մարտակերտի
- 3) Ասկերանի
- 4) Քաշաթաղի



քարտեզ 2

43 Քարտեզ 2-ում Վեդի գետը ո՞ր տառով է նշված.

- 1) Դ
- 2) Ա
- 3) Բ
- 4) Գ

44 Քարտեզ 2-ում Վաղարշապատ քաղաքը ո՞ր տառով է նշված.

- 1) Ը
- 2) Ե
- 3) Զ
- 4) Է

45 ՀՀ բնակչության վերաբերյալ ո՞ր պնդումն է ճիշտ.

- 1) Ռուսները հիմնականում բնակվում են Վայոց ձորի մարզում:
- 2) Թվաքանակով երկրորդ ազգը ասորիներն են:
- 3) Եզդիները հիմնականում բնակվում են Սյունիքի մարզում:
- 4) Ազգային կազմով աշխարհի առավել միատարր պետություններից է:

46 ՀՀ-ում ուրբանիզացվածության ամենաբարձր մակարդակ ունեցող մարզն է.

- 1) Շիրակը
- 2) Սյունիքը
- 3) Արարատը
- 4) Արմավիրը

47 ՀՀ արդյունաբերության վերաբերյալ ո՞ր պնդումն է ճիշտ.

- 1) Ալյումինի արտադրությունը բացառապես օգտագործում է տեղական հումք՝ Թեժ լեռան և Շվանիձորի (Մեղրու լեռնաշղթա):
- 2) Մեքենաշինության զարգացումը պայմանավորված է սև մետաղների առկայությամբ:
- 3) Մետաղաձուլության մասնագիտացված ուղղություններից է մոլիբդենի արտադրությունը:
- 4) Քիմիական արդյունաբերության խոշոր կենտրոններ են Հրազդան և Գյումրի քաղաքները:

48 Ո՞ր մարզում չկա երկաթուղային կայարան.

- 1) Լոռի
- 2) Գեղարքունիք
- 3) Վայոց ձոր
- 4) Շիրակ

49

Արագածոտնի մարզի վերաբերյալ ո՞ր պնդումն է սխալ.

- 1) Հողային ծածկույթում գերակշռում են կիսաանապատային հողերը:
- 2) Ընդերքը հարուստ է հրաբխային ապարատեսակներով:
- 3) Տարածքի բարձրաչափական նիշերի մեծ տարբերության պատճառով կլիման բազմազան է:
- 4) Հիմնական ջրային զարկերակը Քասաղ գետն է՝ Գեղարքոս և Ամբերդ գլխավոր վտակներով:

50

Կոտայքի մարզում բուսաբուծության ո՞ր ենթաճյուղը զարգացած չէ.

- 1) բանջարեղենի մշակությունը
- 2) ծխախոտի մշակությունը
- 3) հացահատիկի մշակությունը
- 4) պտղաբուծությունը

51

Ո՞ր պնդումն է սխալ.

- 1) Լուսասինթեզի ժամանակ բույսերը կլանում են թթվածին և արտանետում ածխաթթու գազ:
- 2) Անտառներն ունեն ջրապաշտպան, հողապաշտպան, դաշտապաշտպան, կլիմայաստեղծ նշանակություն:
- 3) Անտառների պահպանմանն ու վերականգնմանն ուղղված միջոցառում է հատուկ պահպանվող տարածքների ստեղծումը:
- 4) Բուսականությունը մասնակցում է նյութերի և էներգիայի համամոլորակային շրջապտույտին:

52

Օդային ավազանի առավել մեծ տեխնածին աղտոտվածություն ունեցող երկիր է.

- 1) Ավստրալիան
- 2) Բրազիլիան
- 3) Պորտուգալիան
- 4) Ճապոնիան

53

Հետևյալներից ո՞րը հողաբարելավման միջոցառում չէ:

- 1) կլիմայավարժեցում
- 2) ոռոգում
- 3) քարամաքրում
- 4) անտառապատում

54

Ո՞ր պնդումն է սխալ.

- 1) Հողերի վատթարացման պատճառ է արոտավայրերի գերարածեցումը:
- 2) Արգելոցը հատուկ պահպանվող տարածք է, որտեղ ամբողջությամբ արգելված է մարդու արտադրական գործունեությունը:
- 3) Բուսական և կենդանական աշխարհը շատ աղքատ է երկրագնդի մերձարևադարձային գոտիներում:
- 4) Ջերմոցային էֆեկտի ուժեղացման հետևանքով բարձրանում է երկրագնդի միջին ջերմաստիճանը:

55

Ո՞ր պնդումն է սխալ.

- 1) Էկոլոգիական աղետալի շրջաններն աշխարհում աստիճանաբար ավելանում են:
- 2) Թույլ զարգացած երկրներին հատկապես բնորոշ է պարենային հիմնախնդիրը:
- 3) Համաշխարհային օվկիանոսը եկրագնդի մասշտաբով կլիմայի կարգավորիչ է:
- 4) Մարդկային զարգացման համաթվի հաշվարկման գլխավոր բաղադրիչ է տվյալ պետության քաղաքական իրավիճակը:

56

Գրել այն ապարների համարները, որոնք ունեն օրգանական նստվածքային ծագում.

- | | |
|----------|-------------|
| 1) ավազ | 5) կրաքար |
| 2) խարամ | 6) խճաքար |
| 3) տորֆ | 7) օբսիդիան |
| 4) տուֆ | 8) գնեյս |

57

Տրված են աշխարհի նշանավոր լճեր: Գրել տեկտոնական ծագում ունեցող լճերի համարները.

- | | |
|-------------|--------------|
| 1) Բայկալ | 5) Տանգանիկա |
| 2) Մեծ արջի | 6) Վետերն |
| 3) Չադ | 7) Աթաբասկա |
| 4) Նյասա | 8) Արալյան |

58

Տրված են ծովային սառը հոսանքներ: Գրել Ատլանտյան օվկիանոսի ծովային հոսանքների համարները.

- | | |
|------------------|----------------|
| 1) Բենգելյան | 5) Կանարյան |
| 2) Լաբրադորյան | 6) Սոմալիի |
| 3) Կալիֆոռնիական | 7) Օյա Միո |
| 4) Պերուական | 8) Ֆոլկլենդյան |

59

Գրել այն լեզուների համարները, որոնք չեն մտնում սլավոնական լեզվախմբի մեջ.

- | | |
|----------------|---------------|
| 1) լեհերեն | 5) չեխերեն |
| 2) սերբերեն | 6) սլովակերեն |
| 3) շվեդերեն | 7) ռուսերեն |
| 4) բուլղարերեն | 8) էստոներեն |

60

Գրել այն երկրների համարները, որոնք առաջատար են խոզաբուծությամբ.

- | | |
|--------------|-------------|
| 1) Հնդկաստան | 5) Թուրքիա |
| 2) Ինդոնեզիա | 6) Չինաստան |
| 3) Գերմանիա | 7) Պակիստան |
| 4) Իրան | 8) Ճապոնիա |

61

Գրել այն տարածաշրջանների համարները, որոնք մասնագիտացված են խաղողագործության մեջ.

- | | |
|-------------------|-------------------------|
| 1) Սևանի ավազան | 5) Կոտայքի սարավանդ |
| 2) Արարատյան դաշտ | 6) Սյունիքի բարձրլանդակ |
| 3) Շիրակի դաշտ | 7) Լոռվա սարահարթ |
| 4) Մասրիկի դաշտ | 8) Արփայի հովիտ |

62

Հայկական լեռնաշխարհի տրված գետերի համարները դասավորել ըստ դրանց վտակների վրա գտնվող ջրվեժների հետևյալ հաջորդականությամբ՝ Թորթումի, Շաքիի, Թռչկանի.

- | | | |
|----------|-----------|-----------|
| 1) Ճորոխ | 2) Փամբակ | 3) Որոտան |
|----------|-----------|-----------|

63

Տրված հարթավայրերը դասավորել բարձրության աճման կարգով.

- | | |
|------------------|----------------|
| 1) Միջագետքի | 3) Մերձկասպյան |
| 2) Միջինռուսական | 4) Շիրակի |

(64-65). Լեռան գագաթին մթնոլորտային ճնշումը 340 մմ է, օդի ջերմաստիճանը՝ -6°C , իսկ ստորոտին՝ $+12^{\circ}\text{C}$ (հաշվարկը կատարել 6°-ով).

64 Որոշել լեռան հարաբերական բարձրությունը:

65 Որոշել մթնոլորտային ճնշումը ստորոտում:

(66-67) Քաղաքի բնակչության թիվը 80 000 է, բնակչության բացարձակ բնական աճը՝ 800 մարդ: Եկածների թիվը 2 000 մարդ է, մեկնածների թիվը՝ 1500 մարդ.

66 Որոշել միգրացիայի մնացորդը:

67 Որոշել քաղաքի բնակչության թիվը 1 տարի հետո:

68 Երկրի նավթի պաշարները կազմում են 2,4 մլրդ տ, տարեկան հանույթը՝ 80 մլն տ: Որքա՞ն է ռեսուրսաապահովվածությունը:

69

Գերմանիայի վերաբերյալ տրված պնդումներից որո՞նք են ճիշտ, որո՞նք՝ սխալ.

- 1) Արտահանման մեջ գերակշռում են բնական գազն ու նավթամթերքները:
- 2) Տնտեսությունը գտնվում է զարգացման հետինդուստրիալ փուլում:
- 3) ՀՆԱ-ի կառուցվածքում ամենափոքր բաժինը զբաղեցնում է սպասարկման ոլորտը:
- 4) Արդյունաբերության առաջատար ճյուղերից են մեքենաշինությունն ու քիմիական արդյունաբերությունը:
- 5) Գյուղատնտեսությունն աչքի է ընկնում մեքենայացման ու քիմիացման բարձր մակարդակով:
- 6) Գյուղատնտեսության առաջատար ճյուղը բուսաբուծությունն է:

70

ՀՀ Գեղարքունիքի մարզի վերաբերյալ տրված պնդումներից որո՞նք են ճիշտ, որո՞նք՝ սխալ.

- 1) Մարզի գյուղերում է ապրում բնակչության մեկ երրորդը:
- 2) Առկա են քրոմիտի և ոսկու պաշարներ:
- 3) Կլիման բարեխառն լեռնային է:
- 4) Տնտեսության առաջատար ճյուղը գյուղատնտեսությունն է:
- 5) Հողածածկույթում գերակշռում են լեռնաանտառային գորշ հողերը:
- 6) Անասնապահության առաջատար ճյուղն է խոզաբուծությունը: